

SJAKKMATT ELLER PATT?

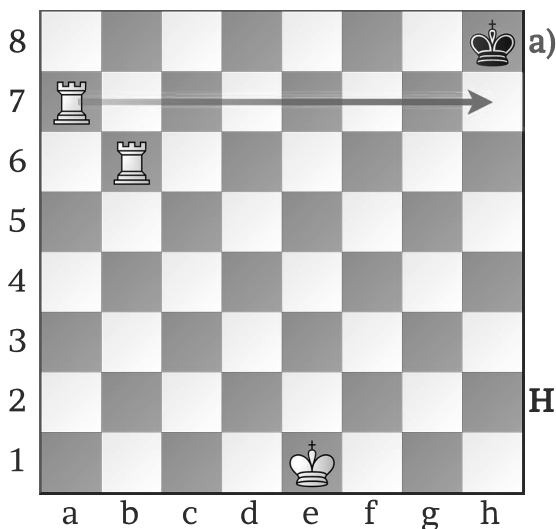


Diagram 19

a) *Matt med to tårn*

Svart sin konge er fanga på åttenderaden av a7-tårnet.

Tårnet på b6 gjør ingenting akkurat nå.

Hvordan kan hvit flytte b6-tårnet for at det skal bli sjakk matt?

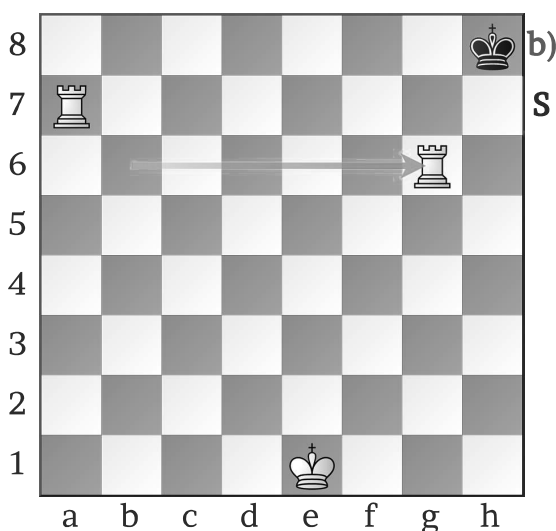


Diagram 20

b) **1. Tg6?**

Nei nei nei, nå er det **patt!**

Svart står ikke i sjakk, men kan heller ikke flytte.

Nå er det for sent, men vi skal se hva hvit burde ha gjort.

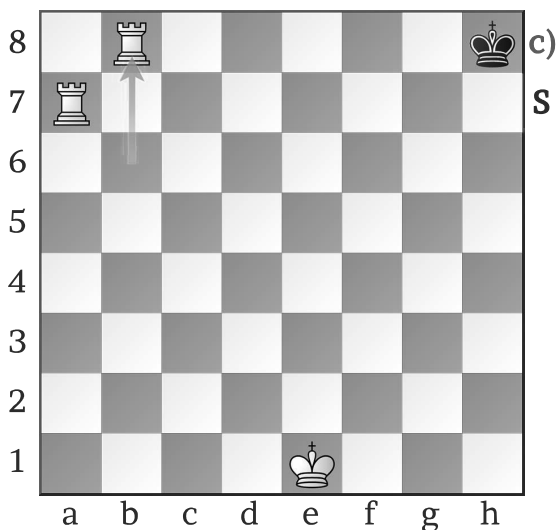


Diagram 21

c) **1. Tb8#**

Svart står i sjakk og kan ikke forsvare seg.

Det er sjakk matt.

De hvite tårnene kontrollerer sjuenderaden og åttenderaden.




Diagram 22

a) ***Matt med konge og dronning***

For å matte med konge og dronning, må begge brikkene hjelpe til.

Den svarte kongen står i hjørnet.

Ser du hvilke fem trekk som fører til sjakk matt?

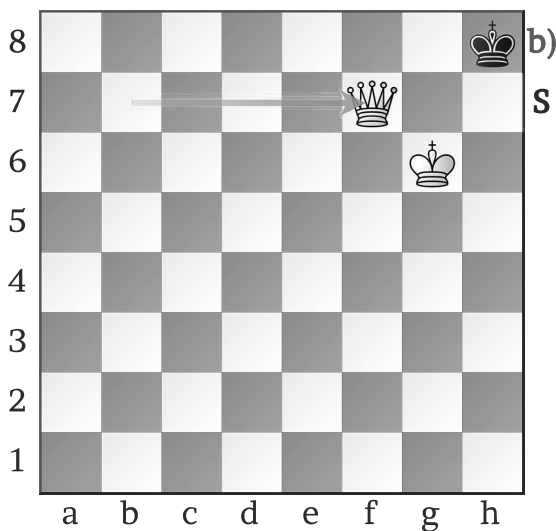


Diagram 23

b) **1. Df7?**

Så nærme seier - men **patt**.

1. Dd5? og 1. Db1? fører også til patt.

Her fikk svart remis i ei **nesten** håpløs stilling.




Diagram 24

c) **De fem trekkene som fører til sjakk matt.**

1. Da8#

1. Db8#

1. Dc8#

1. Dg7#

1. Dh7#