


TRENINGSOPPGAVER 1


Hvilket trekk skal hvit gjøre for ikke å bli matt?



Svar: _____

Diagram 25

Hvilket trekk skal hvit gjøre for ikke å bli matt?



Svar: _____

Diagram 26


Hvilket trekk skal svart gjøre for ikke å bli matt?



Svar: _____

Diagram 27

Hvilket trekk skal svart gjøre for ikke å bli matt?



Svar: _____

Diagram 28