


# TRENINGSPPGAVER 3


1. **h7** Må svart forsvare seg med 1... Kg7?



Svar: \_\_\_\_\_

Diagram 75


1. **Dd5** Må svart flytte tårnet?



Svar: \_\_\_\_\_

Diagram 77

1... **Da8** Bør hvit ta bonden på c7?



Svar: \_\_\_\_\_

Diagram 76

1... **De5** Kan hvit fortsatt flytte tårnet til den åpne e-linja?



Svar: \_\_\_\_\_

Diagram 78